

Matrikelnr. _____

Name _____

Punkte _____ [v 100]

Gesamtnote _____

Schreiben Sie auf jedes Blatt Matrikelnummer und Namen. Beachten Sie: **die Form ist Teil der Beurteilung**. Nutzen Sie ggf. auch die Rückseiten für die Antworten oder Zeichnungen.

.....

01 :: Schildern Sie in einer Art Kurzgeschichte der Architektur

- a) die wichtigsten Ursachen der Entstehung der Architektur der Moderne von 1900 -1940
- b) die bedeutendsten Strömungen und spezifischen nationalen Beiträge innerhalb der Moderne-
Entwicklung in diesem Zeitraum
- c) einige Repräsentanten der genannten Strömungen zwischen 1900-1940.

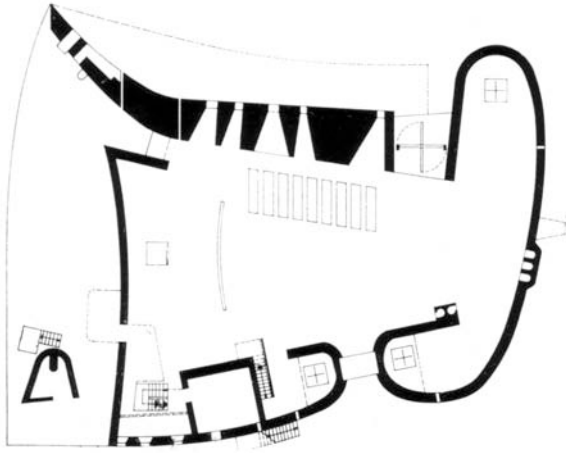
[16 pt]

Matrikelnr. _____

Name _____

- 02 :: a) Analysieren Sie den Grundriss und erläutern Sie Bedeutung und Wirksamkeit des Bauwerks.
b) Wann etwa ist es entstanden, was war das Bedeutende daran, wer war der Auftraggeber?
c) Nennen Sie mindestens drei weitere Bauten des Architekten (und wann sie entstanden).

[5 pt]



- 03 :: Was sind die so genannten „Case Study Houses“? Wann und wo entstanden diese ? Nennen Sie mindestens zwei Planer.

[4 pt]

Matrikelnr. _____

Name _____

04 :: Die Reformbewegungen waren wichtige Quellen und Ausdrucksformen der Moderne.

- a) Was war die wesentliche Ursache Ihrer Entstehung?
- b) Nennen Sie verschiedenen Ausdrucksformen der Reformbewegung.
- c) Wo und in welcher Form manifestierte sich die Reformbewegung im Bauen?


[5 pt]

05 :: a) Erläutern Sie die zeitgeschichtlichen Hintergründe, Bedeutung und Idee des „Kubismus“.

b) Wo entstand der Stil, wer waren die bedeutenden Repräsentanten, wer waren Anreger und Quelle?

c) Was unterscheidet den synthetischen vom analytischen Kubismus, erklären Sie anhand der Abbildungen.


[6 pt]



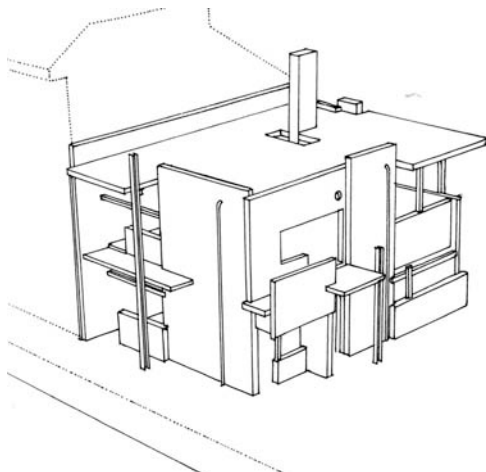
Matrikelnr. _____

Name _____

- 06 :: a) Analysieren das Bauwerk und seine Bedeutung, wo, von wem und wann wurde es etwa errichtet?
b) Nennen Sie mindestens drei weitere wichtige Bauten des Architekten (und etwaige Bauzeit). [4 pt]



- 07 :: a) Beschreiben Sie die formale Idee des Bauwerks und erklären Sie den kulturgeschichtlichen Hintergrund seiner Entstehung.
b) Wo befindet sich das Bauwerk, wer war der Architekt? Wer waren weitere bedeutende Repräsentanten der Tendenz und wie nannte sie sich? [5 pt]

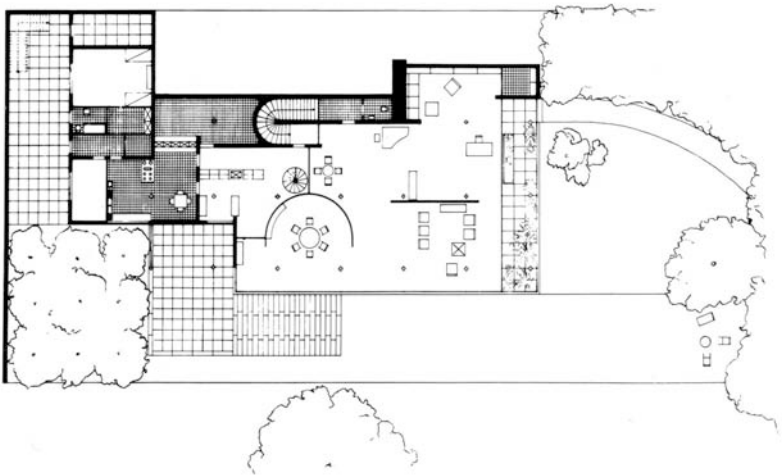


Matrikelnr. _____

Name _____

- 08 :: a) Erläutern Sie die architekturtheoretischen Unterscheidungen von Rationalismus und Funktionalismus in der Debatte der Ersten Moderne.
b) Was waren Grundlagen und Argumente der jeweiligen Haltungen?
c) Nennen Sie typische Repräsentanten und Bauwerke, die exemplarisch die Positionen illustrieren. [6 pt]

- 09 :: a) Analysieren Sie den Grundriss und erklären Sie die räumliche Idee. Wo und wann errichtet?
b) Nennen Sie weitere Bauten des Architekten, Wirkung und Stationen seines Lebens. [5 pt]



Matrikelnr. _____

Name _____

- 10 :: a) Erläutern Sie Wirkung und Bedeutung von Frank Lloyd Wright.
b) Von welchen zeitgeschichtlichen und geistigen Wurzeln (Denken und Lehrer) ist er beeinflusst?
c) Nennen Sie mindestens drei Bauten (und etwaige Entstehungszeit). [6 pt]

- 11 :: Nennen Sie bedeutende Beiträge zum christlichen Kirchenbau im 20. Jahrhundert in Deutschland.
Nennen Sie mindestens drei deutsche Architekten und drei herausragende Sakralbauten und wann diese etwa errichtet wurden. [6 pt]

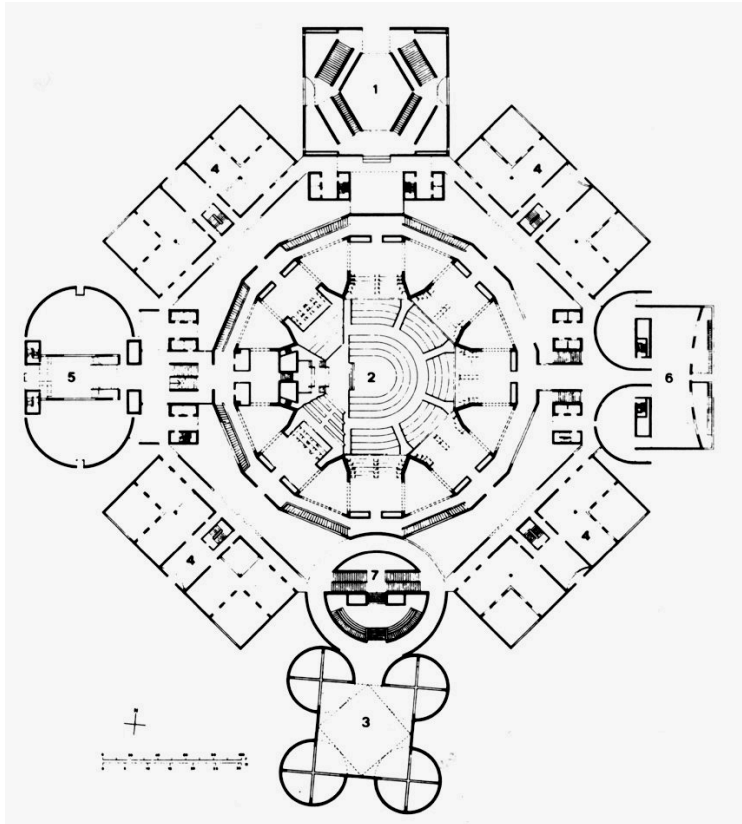
- 12 :: Was ist „Brutalismus“? Wann taucht der Begriff auf, woraus leitet er sich ab? Nennen Sie ein typisches Werk und Vertreter der Bewegung. [5 pt]

Matrikelnr. _____

Name _____

13 :: Analysieren Sie die Planzeichnung. Welche entwerferische Eigenart weist das Konzept aus?
Wer war der Planer, wo wurde es errichtet und wann etwa?

[5 pt]




14 :: Erklären Sie die Bedeutung von Eduardo Torroja, Pier Luigi Nervi, Eladio Dieste und Frei Otto.
Was waren Ihre spezifischen Beiträge zur Architektur des 20. Jahrhunderts?

[6 pt]


Matrikelnr. _____

Name _____


15 :: Nennen Sie Autor, Standort und Errichtungsjahr (ca.). Erläutern Sie Idee, Funktion und Besonderheit [16 pt]



a]




b]



c]



d]



e]



f]

Matrikelnr. _____

Name _____



g]

a]

b]



h]

c]

d]

e]

f]

g]

h]