

Matrikelnr. \_\_\_\_\_

Name \_\_\_\_\_

**Punkte** \_\_\_\_\_ (v 200)

**Note** \_\_\_\_\_

Schreiben Sie auf jedes Blatt rechts oben gut lesbar Matrikelnummer und Namen. Schreiben und skizzieren Sie ordentlich. Beachten Sie: **die Form ist auch Teil der Beurteilung**. Nutzen Sie ggf. auch die Rückseiten der Blätter für Ihre Antworten oder Zeichnungen.

.....

01 :: 1959 findet der letzte einer legendären Reihe von bedeutenden Architektur- und Städtebau- Kongressen im niederländischen Otterlo statt.

a) Um was für eine Kongressreihe handelte es sich? Wie viele Kongresse wurden insgesamt abgehalten und auf wer waren die Initiatoren des ersten Kongress?

b) Nennen Sie zwei Themen der Kongresse und mindestens drei Gründungsmitglieder? (10 pt)

02 :: Skizzieren Sie perspektivisch ein „Dom-ino“ Haus und nennen Sie Autor, Idee und Entstehungszeit.

Nennen Sie mindestens vier weitere wichtige Bauten des Erfinders dieses Bautyps. (15 pt)

Matrikelnr. \_\_\_\_\_

Name \_\_\_\_\_

- 03 :: a) Wo und wann (ca.) entstand das Konzept der Garten-Stadt? Erklären Sie die zeitgeschichtlichen Gründe der Entstehung.  
b) Wer war deren Entwickler, wie hieß die erste Gartenstadt? (10 pt)

- 04 :: „Eine polierte Metallkugel ist eine phantastische Angelegenheit für unseren Geist, aber eine Blüte ist ein Erlebnis.“, schrieb der aus Biberach stammende Architekt und bedeutende Theoretiker Hugo Häring.  
a) Erklären Sie die Denkhaltung die Häring innerhalb der Diskussionen der Moderne vertrat?  
b) Nennen Sie sein bedeutendstes Bauwerk. (10 pt)

- 05 :: a) Wo befindet sich das Bauwerk, wann wurde es etwa errichtet?  
b) Wer war der Architekt und wer sein Auftraggeber?  
c) In welchem Kontext wurde das Gebäude errichtet? Erläutern Sie das Gesamtkonzept der Anlage? (15 pt)



Matrikelnr. \_\_\_\_\_

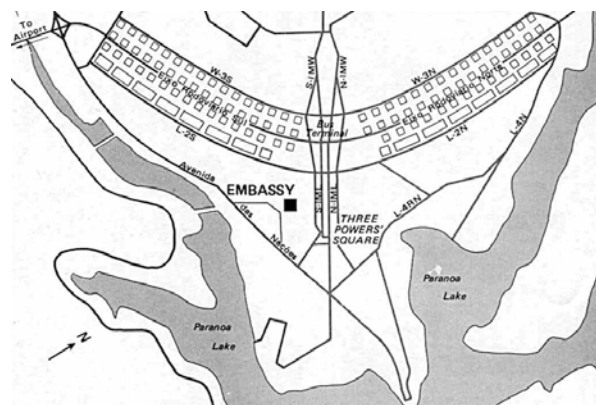
Name \_\_\_\_\_

- 06 :: a) Erklären Sie Bedeutung und Beitrag zur Entwicklung der Architektur der Moderne durch Adolf Loos.  
b) Nennen Sie mind. zwei wichtige Bauten. (10 pt)

- 07 :: a) Wer errichtete wo und wann (ca.) die „Crown Hall“?  
b) Nennen Sie weitere wichtige Bauten des Architekten und erklären Sie seine Bedeutung. (10 pt)

- 08 :: Wo wirkte Ernst May und zu welcher baulichen Thematik schuf er einen wesentlichen Beitrag? (5 pt)

- 09 :: Was zeigt der Plan? Wo wurde das Projekt geplant, für wen, wann und wer waren die Akteure? (10 pt)



Matrikelnr. \_\_\_\_\_

Name \_\_\_\_\_

10 :: Wer beförderte maßgeblich die Abfassung der „Charta von Athen“ ? Wann wurde diese geschrieben und worum ging es dabei im Wesentlichen? (5 pt)

11 :: a) Wann entstand der „Deutsche Werkbund“ und unter welchem Einfluss?  
b) Nennen Sie Ziele, Protagonisten und welche bedeutende Siedlung entstand durch den Werkbund? (10 pt)

12 :: a] Für das Jahr 1942 beabsichtigt das faschistische Italien unter Mussolini eine Weltausstellung. Das Konzept hierfür wird auch bekannt unter dem Namen „E42“. Der federführende römische Architekt Marcello Piacentini wird dafür welchen Stil bevorzugen?  
b] Welche stilistische Gegenposition vertraten „Comer Schule“? Wer war deren führender Vertreter und wo stehen die beiden abgebildeten emblematischen Gebäude? (10 pt)



Matrikelnr. \_\_\_\_\_

Name \_\_\_\_\_

- 13 :: a) Ende der 1950er-Jahre soll ein finnisch-stämmiger amerikanischer Architekt wesentlich im Wettbewerb um den Neubau der Oper von Sydney das spätere Siegerprojekt favorisiert haben. Wer war es?  
b) Nennen Sie mindestens zwei bedeutende Bauten des einflussreichen Preisrichters.  
c) Wer gewann den Wettbewerb von Sydney? (10 pt)

- 14 :: a) Skizzieren Sie einen schematischen Grundriss des Pavillons der Weimarer Republik.  
b) Wo und wann wurde aus welchem Anlass das Bauwerk von welchem Architekten errichtet? (20 pt)


- 15 :: Wann entsteht der „Heimatstil“. Erklären Sie den Begriff und den Anwendungsbereich des Stils. (5 pt)

- 16 :: Wer war Hermann Henselmann? (5 pt)

Matrikelnr. \_\_\_\_\_

Name \_\_\_\_\_


17 :: Benennen Sie für die dargestellten Bauten Autor, Standort und Errichtungsjahr (ca.). Erläutern Sie Idee, Funktion und Besonderheit der Bauten ? (40 pt)



a]



b]



c]



d]



e]



f]

Matrikelnr. \_\_\_\_\_

Name \_\_\_\_\_



g]



h]

a]

b]

c]

d]

e]

f]

g]

h]